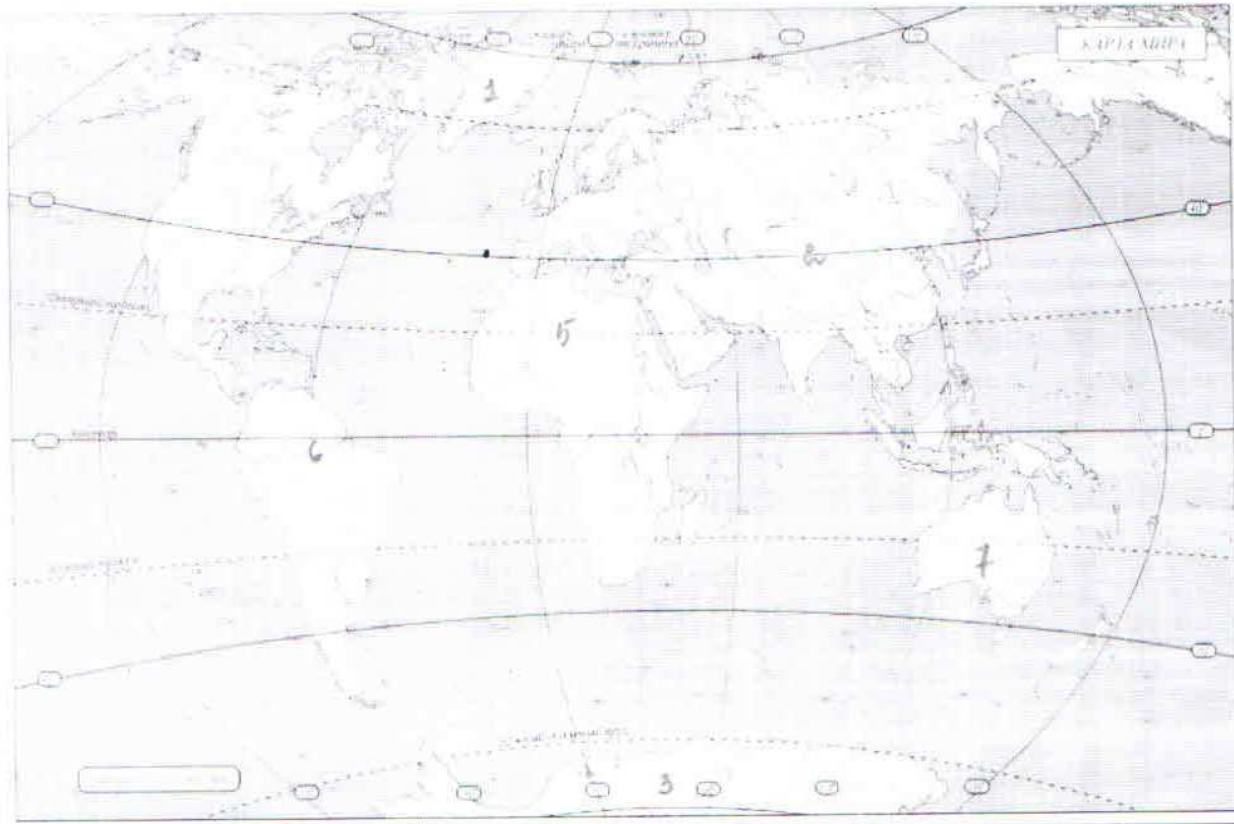




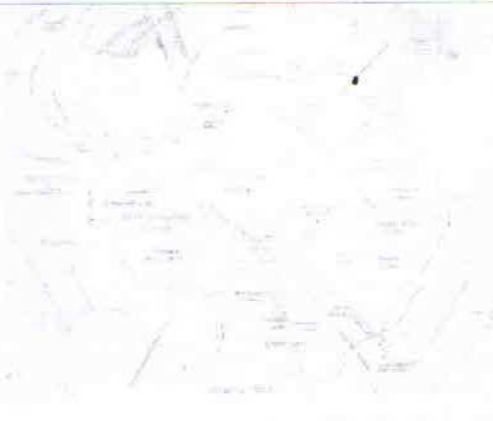



Шифр


Практический тур

Задание №1



№ на карте	Объект	Название	Количество баллов
1		Гренландия - самый большой остров	1

2		<p>Самая высокая гора Эверес</p>	1
3		<p>Антарктида - самый холодный и самый высокий</p>	1
4		<p>Самая длинная река - Амазонка</p>	1
5		<p>Самая большая пустыня - Сахара</p>	1
6		<p>Самый высокий потухший вулкан.</p>	0

7		Австралия - состоит из маленького по площади	8
Максимальное количество баллов		6+6=12	

Задание № 2. Максимальное количество баллов – 12.

За каждое правильно отмеченное сочетание по 2 балла

№№ п/п	Расположение вулканов относительно границ литосферных плит	Географическое положение вулканов					
		Вулканы Средиземноморья	Вулканы средней части Атлантического океана	Вулканы Южной Америки	Вулканы Северной Америки	Вулканы западной оконечности Тихого океана	Вулканы островов Гавайского архипелага
1	Вулканы зон расхождения литосферных плит		(+)			+ /	
2	Вулканы зон схождения литосферных плит			(+)			
3	Вулканы внутриокеанических литосферных плит						(+)
4	Вулканы зон скольжения относительно друг друга литосферных плит	(+)			(+)	+ /	

10

Всероссийская олимпиада школьников 2023-2024 учебный год

Время выполнения 60 мин. Максимальное кол-во баллов – 56

Шифр

Матрица ответов

№ задания	Правильный ответ	Кол-во баллов
1	Б	1
2	В	1
3	ВГАББА	0
4	ВБАТ	3
5	ГБАБ	3
6	Б	1
7	А	0
8	В	1
9	1Б 2В 3А 4Г 5А	5
10	АБГ	3
11	Т	1
12	Г	1
13	1:18200000	1
14	Б	1
15	спонзорь	1
16	З	0
17	Б	1
18	Екисей	1
Всего баллов		25

МАОУ СШ №134

География, 8 класс. ответы

Время выполнения 60 мин. Максимальное кол-во баллов – 54

ШИФР

Тестовый тур (27 баллов)

№ задания	Правильный ответ	Кол-во баллов
1	Г	1
2	В	1
3	В	1
4	А-В В-З В-Ч Г-Г	4
5	В А	1
6	В	0
7	А Г	2
8	А	1
9	о. Врангеля	1
10	А Г	2
11	соборы судов колонок графа	4
12	В	1
13	Г	1
14	А Б	2
15	А-А 1-2 3-6 5-5 4-Г	1 ??
16	А	1
17	Б	1

18	5	1
Максимально количество баллов		26

Практический тур

Шифр

Задание №1

За каждую правильно заполненную ячейку 1 балл.

Номер центра происхождения культурных растений с рис.1	Название сельскохозяйственной культуры	Название материка (часть света), родины происхождения данной культуры	Название природной зоны
I	Рис, огурец, цитрусовые	Азия (Евразия)	Влажные экваториальные и муссонные леса
II	Чай, редька, соя, яблоня	Азия (Евразия)	Область высотной поясности, жестколистные вечнозеленые леса
III	Ячмень, пшеница, морковь, виноград	Азия (Евразия)	жестколистные широколиственные
IV	Капуста, репа, маслины, лук	Европа (Евразия)	жестколистные широколиственные
V	Арбуз, банан, пшеница твердых сортов	Африка	испаромаксимальные леса
VI	Кукуруза, табак, подсолнечник	С. Америка	полупустыни влажные леса
VII	Картофель, ананас, арахис	Ю. Америка	область влажных экваториальных

Максимальное количество баллов - 10

10

Задание № 2.

Как называется рельеф?

Назовите природный фактор, формирующий данный рельеф.

Назовите процесс, формирующий этот рельеф

О чем может говорить асимметричность склонов этой формы?

Максимальное количество баллов – 7

Задание № 3.

Вопросы

1. О каких бескрылых птицах идет речь?

птичка киви

2. Какие зверята рождаются из яиц?

утконос, ехидна

3. Какие собаки лаять не умеют?

собака динго

4. Почему автор считает, что столица не имеет населения?

В столице Австралия людей живет меньше, чем в Сиднее и Мельбурне, они даже могут больше стать студентами, но выбрали маленьким городом Мельбурн столицей

5. Почему кролики страшней, чем наводнение?

кролики были завезены в Австралию, тогда уничтожили садовую, но их стало так много, что они едят всё, сейчас есть закон против кроликов

Максимальное количество баллов – 10 баллов

10